


**Автономная некоммерческая организация высшего образования
«Университет БРИКС (ЮниБРИКС)»**

Университет БРИКС



**Образец общеобразовательного вступительного испытания,
проводимого Университетом БРИКС самостоятельно
по географии**

г. Москва

1. Расположите перечисленные города в порядке увеличения полуденной высоты Солнца над горизонтом 14 января, начиная с города с наименьшей высотой Солнца. Определите верную последовательность цифр.

1) Архангельск 2) Астрахань 3) Курск

- 132
- 312
- 213
- 123
- 231

Ответ: 132

2. Расположите перечисленные города в порядке увеличения полуденной высоты Солнца над горизонтом 15 августа, начиная с города с наименьшей высотой Солнца. Определите верную последовательность цифр.

1) Архангельск 2) Ставрополь 3) Воронеж

- 231
- 213
- 312
- 132
- 231

Ответ: 132

3. Расположите перечисленные периоды геологической истории Земли в хронологическом порядке, начиная с самого раннего. Определите верную последовательность букв.

А) каменноугольный Б) девонский В) пермский

- АВБ
- БАВ
- ВАБ
- БВА

Ответ: БАВ

4. Расположите перечисленные периоды геологической истории Земли в хронологическом порядке, начиная с самого раннего. Определите верную последовательность букв.

А) меловой Б) кембрийский В) неогеновый

- АБВ
- БВА
- АВБ
- БАВ

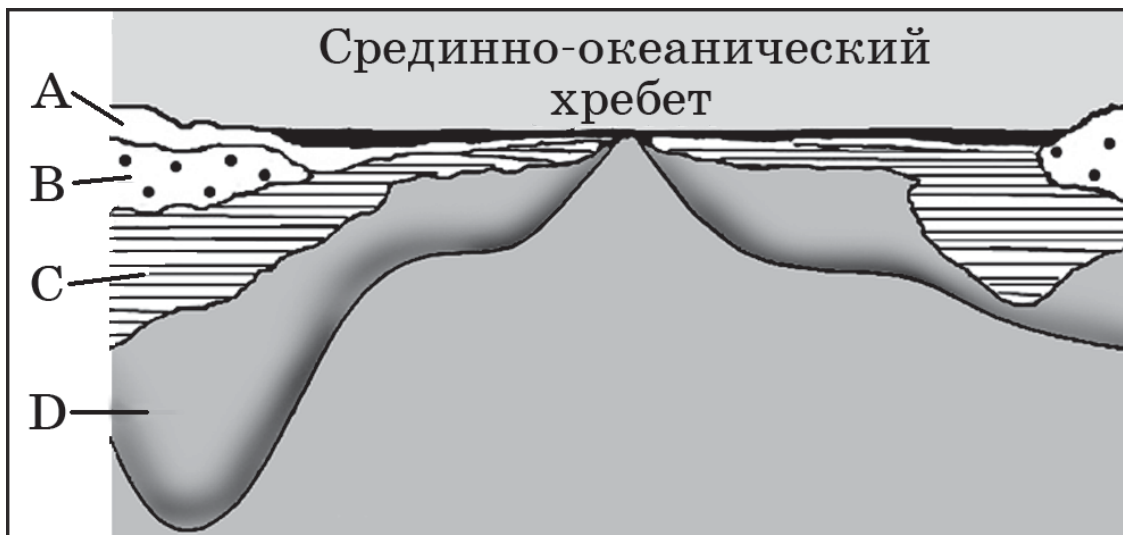
Ответ: БАВ

5. Океаническая земная кора отличается от континентальной отсутствием...

- 1) гранитного слоя
- 2) осадочного слоя
- 3) базальтового слоя
- 4) железистого слоя

Ответ: 1

6. Какой буквой обозначен на рисунке гранитный слой земной коры?



- A
- B
- C
- D

Ответ: B

7. Установите соответствие между формой рельефа и основными факторами ее образования. Определите верный вариант выбранных цифр с соответствующими буквами.

ФОРМА
РЕЛЬЕФА

- A) дюна
- Б) моренные гряды
- В) балка

ОСНОВНОЙ ФАКТОР
ОБРАЗОВАНИЯ

- 1) ледник
- 2) ветер
- 3) текучая вода
- 4) деятельность человека

- A-1 Б-4 В-2
- A-4 Б-2 В-3
- A-3 Б-1 В-4
- A-2 Б-1 В-3

Ответ: A-2 Б-1 В-3

8. Расположите перечисленные страны в порядке возрастания в них показателя естественного прироста населения (на 1 тыс. жителей), начиная со страны с наименьшим значением этого показателя. Определите верную последовательность цифр.

1) Германия 2) Саудовская Аравия 3) Аргентина

- 123
- 231
- 132
- 312
- 321

Ответ: 132

9. Расположите перечисленные страны в порядке возрастания в них показателя рождаемости населения (на 1 тыс. жителей), начиная со страны с наименьшим значением этого показателя. Определите верную последовательность цифр.

1) Эфиопия 2) США 3) Болгария

- 312
- 321
- 231
- 123
- 132

Ответ: 321

10. В каких трёх странах судостроение — отрасль международной специализации? Определите верный ответ в виде обозначений цифр выбранных стран.

1) Белоруссия

2) Дания

3) Япония

4) Мексика

5) Республика Корея

6) Словакия

- 246
- 135
- 126
- 456
- 235

Ответ: 235

11. Для какой из перечисленных стран характерна постиндустриальная структура хозяйства?

1) Швеция

- 2) Эфиопия
- 3) Ангола
- 4) Непал

Ответ: 1

12. Какая из перечисленных стран является наиболее крупным производителем и экспортёром риса?

- 1) Ирландия
- 2) Таиланд
- 3) Франция
- 4) Канада

Ответ: 2

13. Верны ли следующие утверждения о Финляндии?

- А. Страна является крупным производителем и экспортёром бумаги и целлюлозы.*
Б. На территории страны находится крайняя северная точка Европы.

- 1) верно только А
- 2) верно только Б
- 3) верны оба утверждения
- 4) оба утверждения неверны

Ответ: 1

14. В каком из следующих высказываний содержится информация об отрасли международной специализации?

- 1) По запасам природного газа в мире особенно выделяются два региона: зарубежная Азия и СНГ.
- 2) Основа экономики Саудовской Аравии — нефтяная промышленность, которая обеспечивает 98% её экспортной выручки.
- 3) В странах Северной Америки и Западной Европы темпы экономического роста в конце XX в. были ниже среднемировых.
- 4) На мировой рынок поступает 10–15% производимого в мире зерна, в основном пшеницы и кукурузы.

Ответ: 241

15. Используя данные таблицы, сравните обеспеченность стран природным газом. Расположите страны в порядке возрастания в них показателя ресурсообеспеченности, начиная со страны с наименьшим значением этого показателя. Определите верную последовательность букв.

Страна		Разведанные запасы природного газа, трлн м ³	Добыча природного газа, млрд м ³ в год
А)	Индонезия	3,00	66
Б)	Саудовская Аравия	7,17	75
В)	США	6,73	580

- ВБА
- АБВ
- АВБ
- ВАБ

Ответ: ВАБ

16. Используя данные из приведённой ниже таблицы, сравните ресурсообеспеченность стран пресной водой. Расположите страны в порядке возрастания в них показателя ресурсообеспеченности, начиная со страны с наименьшим значением этого показателя. Определите верную последовательность букв.

Страна	Ресурсы пресной воды, км ³	Численность населения в 2012 г., млн чел.
А) Китай	2 800	1 350,1
Б) Индонезия	2 530	241,0
В) Канада	2 900	34,9

- АБВ
- БАВ
- ВАБ
- БВА

Ответ: АБВ

17. Установите соответствие между страной и ее столицей. Определите верный вариант выбранных цифр с соответствующими буквами.

СТРАНА

- А) Болгария
- Б) Румыния
- В) Венгрия

СТОЛИЦА

- 1) София
- 2) Братислава
- 3) Бухарест
- 4) Будапешт

- А-2 Б-4 В-1
- А-3 Б-2 В-4
- А-2 Б-4 В-3
- А-1 Б-3 В-4

Ответ: А-1 Б-3 В-4

18. Определите страну по её краткому описанию.

Эта высокоразвитая страна — одна из крупных по территории стран Европы. В стране имеются запасы железных, алюминиевых и урановых руд. Большая часть электроэнергии

производится на АЭС. Природные условия благоприятны для развития сельского хозяйства, причём как растениеводства, так и животноводства. Страна входит в число мировых лидеров по производству сахарной свёклы, винограда и пшеницы.

- Великобритания
- Франция
- Германия
- Италия
- Испания

Ответ: Франция

19. Какая страна на карте мира выделена тёмным цветом?



- 1) Аргентина
- 2) Перу
- 3) Бразилия
- 4) Куба
- 5) Мексика

Ответ: 3

20. Верны ли следующие утверждения о Норвегии?

А. Страна является крупным экспортёром природного газа.

Б. На территории страны находится крайняя северная точка Европы.

- 1) верно только А
- 2) верно только Б
- 3) верны оба утверждения
- 4) оба утверждения неверны

Ответ: 3

21. Какие три из перечисленных регионов РФ относятся к числу основных регионов производства сахарной свёклы? Определите цифры, под которыми указаны эти регионы.

- 1) Мурманская область
- 2) Воронежская область
- 3) Республика Коми
- 4) Курская область
- 5) Пермский край
- 6) Краснодарский край

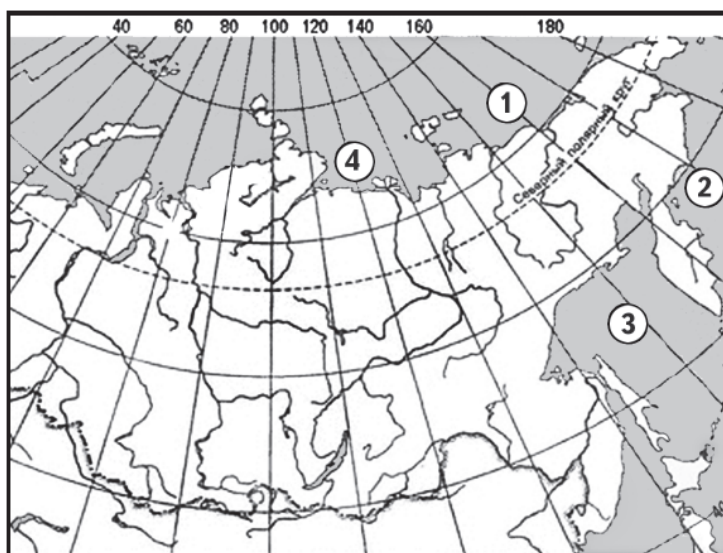
Ответ: 246

22. Какие три из перечисленных городов России имеют наибольшую численность населения? Определите цифры, под которыми указаны эти города.

- 1) Волгоград
- 2) Пермь
- 3) Липецк
- 4) Оренбург
- 5) Тула
- 6) Красноярск

Ответ: 126

23. Установите соответствие между морем и его обозначением на фрагменте карты России. Определите верный вариант выбранных цифр с соответствующими буквами.



МОРЕ

- А) Берингово
- Б) Лаптевых
- В) Восточно-Сибирское

ОБОЗНАЧЕНИЕ НА КАРТЕ

- 1) 1
- 2) 2
- 3) 3
- 4) 4

- А-3 Б-4 В-2
- А-2 Б-4 В-1
- А-4 Б-2 В-1
- А-1 Б-2 В-4

Ответ: А-2 Б-4 В-1

24. Используя график, определите показатель естественного прироста населения в России в 2009 г. Определите верный вариант показателя.



- -1,5
- -1,7
- -1,8
- 1,3
- -2,1

Ответ: -1,8